

2020 年中考试题猜想 · 历史

第一部分 选择题

1. 下面是中国古代主要朝代(时期)沿革示意图(部分),图中空格内依次填入的内容是 ()

……秦→汉→□→两晋→……□→唐……→□→明→清

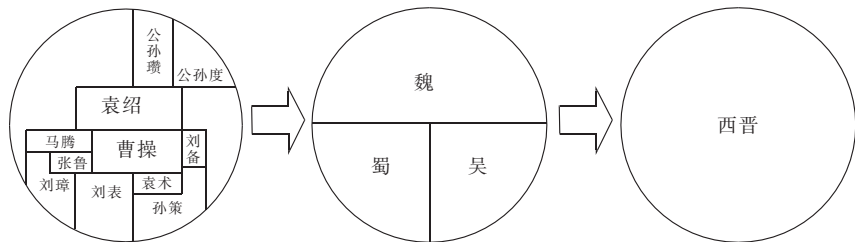
- A. 三国、隋、元
B. 三国、五代、元
C. 东汉、五代、北宋
D. 东汉、隋、北宋

2. 唐朝前期,世人常思济苍生、安社稷,参政热情空前高涨,反映出蓬勃向上的时代精神。推动这种“士风”形成的因素有 ()

①社会风气开放 ②重视文化教育 ③科举制度发展 ④面临内忧外患局面

- A. ①②③ B. ①②④ C. ①③④ D. ②③④

3. 下列图示的变化进程,能反映出 ()



- A. 地方割据加剧 B. 国家逐步分裂 C. 统一趋势加强 D. 多个政权并立

4. 唐朝是我国古代历史上以繁荣与开放著称的王朝。唐朝时期,随着不断扩大的对外交往,中华文化不断被丰富,进而也促进了中华民族多元一体格局的形成。下列选项中能反映唐朝对外交流的是 ()

- A. 童孙未解供耕织,也傍桑阴学种瓜
B. 女为胡妇学胡妆,伎进胡音务胡乐
C. 但使龙城飞将在,不教胡马度阴山
D. 舍己为人传道艺,唐风洋溢奈良城

5. “天子重英豪,文章教尔曹。万般皆下品,惟有读书高。”“做人莫做军,做铁莫做针。”这反映出宋代统治者推行的主要国策是 ()

- A. 重农抑商 B. 重文轻武 C. 以人为本 D. 闭关锁国

6. 军机处距皇帝办公的养心殿只有 50 米,军机大臣曾在此日夜轮值,随时等候皇帝的传唤,实现了国事的速议速办。这体现了清朝 ()

- A. 君主集权的高度强化 B. 思想控制的加强
C. 各衙门处理政事有章可循 D. 议政王大臣会议名存实亡

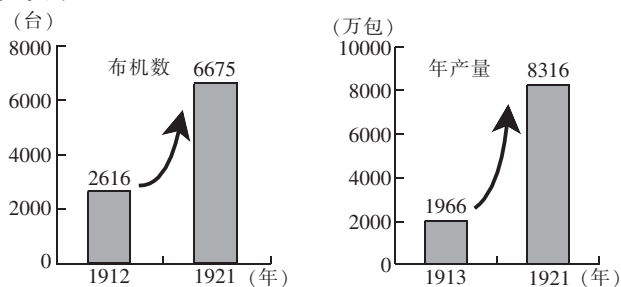
7. 下列选项因果关系对应正确的是 ()

选项	原因	结果
A	资本主义入侵	中国走上独立发展资本主义的道路
B	辛亥革命	“先生”的称呼取代“老爷”“大人”的称谓
C	北伐战争	抗日根据地建立
D	国共合作	解放战争胜利

8. 创立于 1854 年的上海英租界工部局经过 10 多年的艰苦努力,逐步明确征税范围、完善征税手段、强化追欠制度、细化征税标准、取得各国驻沪领事的同意支持,到 1869 年终于建立起成熟的税权制度。此事说明 ()

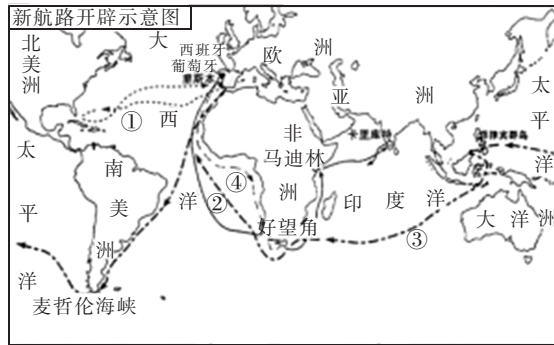
- A. 中国近代化在缓慢前进 B. 各国全力支持清政府改革
C. 洋务运动取得重大成果 D. 百日维新推动法治化进程

9. 以下关于中国近代史上西安事变和重庆谈判相关内容的表述,不正确的是 ()
- A. 西安事变的和平解决促成了抗日民族统一战线的初步形成
 B. 西安事变和重庆谈判都达成了有利于中华民族利益的共识
 C. 毛泽东和周恩来都直接参与了谈判
 D. 重庆谈判的成果是签署了“双十协定”
10. 毛泽东在《论联合政府》中写道:“从1937年7月7日卢沟桥事变到1938年10月武汉失守这一时期内,国民党政府的对日作战是比较努力的……一时出现了生气蓬勃的新气象。”此处的“新气象”主要是指 ()
- A. 抗日民族统一战线初步形成
 B. 敌后战场已成为主战场
 C. 全民族抗战的局面形成
 D. 国民党军队基本上扭转了战局
11. 下面是中国棉纺织业布机数(1912~1921年)和机制面粉业年产量(1913~1921年)柱状图。该图反映了 ()

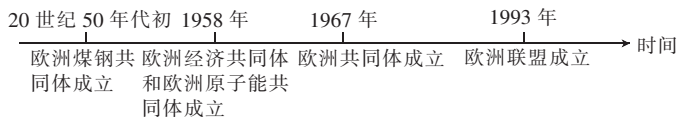


- A. 民族工业获得快速发展良机
 B. 列强加大对中国的商品倾销
 C. 中国近代民族工业开始起步
 D. 中国重工业获得了初步发展
12. 中华民族实现真正的民族独立和开启改革开放历史新时期的标志分别是 ()
- A. 中华民国成立 三大改造完成
 B. 抗日战争胜利 中共十一届三中全会召开
 C. 中华人民共和国成立 第一个五年计划完成
 D. 中华人民共和国成立 中共十一届三中全会召开
13. 右面是1953~1957年国家某重点工业基地示意图(局部)。观察示意图,可以得到的信息有 ()
- ①我国由农业弱国发展为工业强国
 ②该工业基地位于我国东北
 ③该基地以发展重工业为主
 ④“一五”计划取得巨大成就
 ⑤抗美援朝战争取得胜利
- A. ①②③④
 B. ②③④
 C. ②③④⑤
 D. ①②④
-
14. 有学者认为,鸦片战争以来,中国与世界的互动经历了被迫融入世界、主动融入世界、与世界相互影响和相互适应三个阶段。其中“与世界相互影响和相互适应”阶段始于 ()
- A. 开放五口通商
 B. 开发开放上海浦东
 C. 创办经济特区
 D. 加入世界贸易组织
15. “中世纪西欧城市向封建领主纳税,封建领主放弃对城市的统治权和司法权……城市管理人员由市民选举产生。”材料反映了中世纪西欧城市 ()
- A. 社会等级森严
 B. 完全摆脱了封建统治
 C. 是一个相对自治的共同体
 D. 初步确立了资本主义制度

16. 下图为新航路开辟示意图,图中路线与其开辟的人物对应正确的是 ()



- A. ③——迪亚士
B. ①——哥伦布
C. ④——达·伽马
D. ②——麦哲伦船队
17. 斯塔夫里阿诺斯在《全球通史》中写道:“从世界史的观点看,美国革命之所以重要,并不是因为它创造了一个独立的国家,而是因为它创造了一个新的、不同类型的国家。”作者对美国革命作此评价,是因为它 ()
- A. 脱离殖民统治,实现民族独立
B. 战胜封建王权,实行君主立宪
C. 确立共和体制,实行三权分立
D. 解放黑人奴隶,维护国家统一
18. 下列史实叙述正确的是 ()
- A. 十月革命宣告了世界上第一个社会主义国家苏联的诞生
B. 1921年实行的新经济政策是苏俄对社会主义道路的有益探索
C. 列宁领导苏联人民实现了国家工业化
D. 苏联解体标志着美苏“冷战”结束,当时苏联的领导人是斯大林
19. 制作年代尺是历史学习的有效途径之一。下面年代尺体现的主题是 ()



- A. 经济全球化的发展
B. 欧洲的联合
C. 冷战的发生
D. 世界多极化趋势的发展
20. 1936年,英国经济学家凯恩斯提出:“国家应积极干预经济生活,增加有效需求,以防止新的经济危机的发生。”下列选项与该主张最为贴切的是 ()
- A. 明治维新
B. 新经济政策
C. 罗斯福新政
D. 斯大林模式

第二部分 非选择题

21. 填空题。

- (1) _____ 签订后,清政府沦为帝国主义列强统治中国的工具。辛亥革命推翻了清王朝的统治,开创了完全意义上的_____革命。
- (2) 1931年,日本发动_____,成为中国人民抗日战争的起点,揭开了世界反法西斯战争的序幕。1937年,日本制造七七事变,国共两党再度合作,以国共合作为主体的_____正式建立。
- (3) 第二次鸦片战争清政府战败,统治集团内部的洋务派掀起了洋务运动,重点学习西方的_____。20世纪初,巴黎和会上西方列强将德国在中国山东的特权转让给日本,引发了_____,这是中国人民反帝斗争的一次重大胜利。
- (4) 国共两党领导的国民大革命取得的重大成果是基本上推翻了_____的统治。1949年,人民解放军占领_____ (城市名),结束了国民党在大陆的统治。
- (5) 欧洲文艺复兴运动的核心思想是_____,这次运动以意大利为中心向西欧其他国家和地区传播。1848年,_____的发表,标志着马克思主义的诞生。
- (6) 英国资产阶级革命和法国大革命推翻了_____,建立起资本主义制度。美

国独立战争推翻了英国的_____，实现了民族的独立。

- (7)工业革命以_____为主要动力机器，极大地提高了社会生产力水平，传统的手工工场被大工厂替代，_____制度最终确立。
- (8)1929~1933年世界经济大危机爆发后，美国实行_____新政，改变了资本主义制度下自由放任的经济政策，采用_____手段来扭转经济形势。
- (9)1917年，俄国爆发_____，它是人类历史上第一次胜利的社会主义革命。1936年，苏联公布了新宪法，标志着_____的形成。
- (10)苏联解体后，_____（国家）成为唯一的超级大国。欧盟、日本、中国和俄罗斯等国家联盟或国家在国际和地区事务中发挥着重要作用，推动着世界朝着_____方向发展。

22. 简要回答下列问题。

- (1)简述商鞅变法在经济方面的内容，并谈谈商鞅变法的历史作用。简述汉武帝在巩固中央集权方面的主要措施。
- (2)西汉时期，丝绸之路开辟的条件是什么？唐朝出现盛世局面的原因有哪些？唐朝由盛转衰的标志性事件是什么？
- (3)宋代的城市相对于唐朝的城市发生了哪些变化？这种变化说明了什么？从统一多民族国家发展的角度，简要说明元朝统一的历史意义。
- (4)明朝加强中央集权的措施有哪些？清朝时期，君主专制进一步强化，到达封建社会顶峰的标志是什么？这一时期，中国对外贸易发生了什么变化？产生这种变化的原因有哪些？

23. 阅读下列材料，回答问题。

材料一

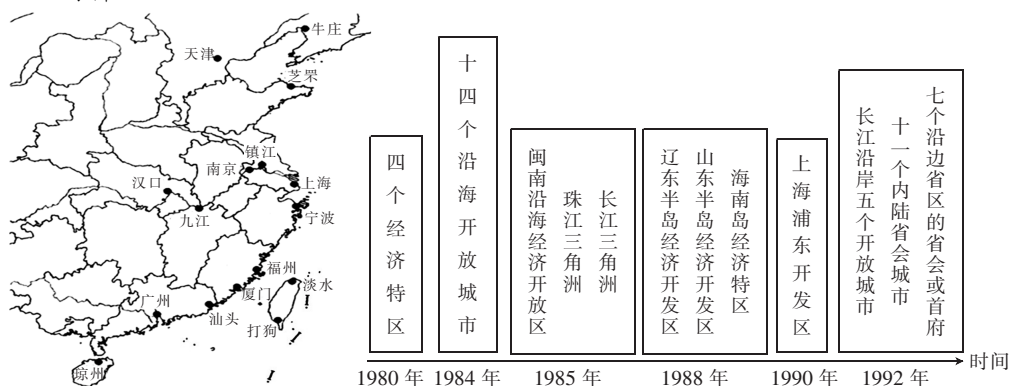
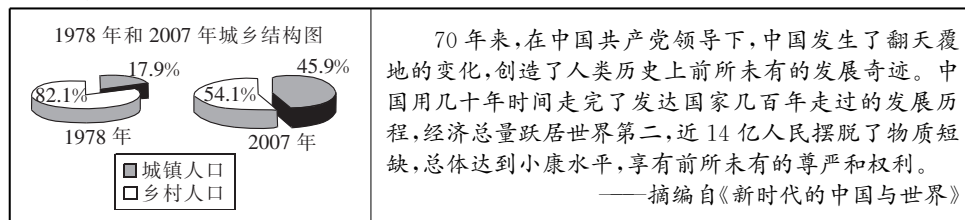


图 A 近代被迫开放的主要通商口岸

图 B


材料二



- (1)材料一图 A 中的厦门开放于哪一条约签订后？依据材料一，指出近代和现代对外开放城市和地区在分布上的相同点。被誉为我国现代对外开放“窗口”的是哪一城市？依据材料一并结合所学知识，分析近代以来中国融入世界的历史趋势。
- (2)从材料二图中，你能得到什么信息？依据材料二并结合所学知识，分析70年来中国创造“发展奇迹”的原因。
- (3)当今中国的发展已经站在一个新的历史起点。综合上述材料，就中华民族伟大复兴之路如何继续谈谈你的建议。

24. 阅读下列材料,回答问题。

材料一



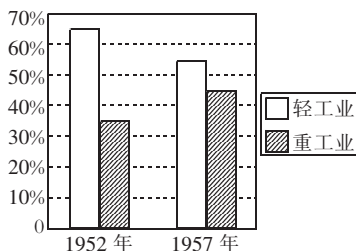
江南制造总局炮厂厂房

19世纪中叶,西方资本主义以炮舰打开了中国的大门。此后,中国于19世纪后半期创建新式工业……当时,西方拼命地向中国推销纺织品和鸦片,而中国人向西方寻求的却是……“机船矿路”。“机”主要指兵器,“船”主要指战船,“矿”主要指煤矿,“路”指铁路……从封建统治集团分化出来的开明派部分地捕捉到时代脉搏,认识到这些基础产业和设施对中国“求强”“求富”的重要意义。

——摘编自董志凯《从“机船矿路”到“瓶颈产业”

——中国百年投资结构之联想》

材料二



新中国成立初期工业结构变化示意图

因为我国过去重工业的基础极为薄弱,经济不能独立,国防不能巩固,帝国主义国家都来欺负我们……资本主义国家从发展轻工业开始,一般是花五十年到一百年的时间实现工业化,而苏联采用了社会主义工业化的方针,从重工业开始,在十多年中就实现了国家的工业化。

——摘编自《建国以来重要文献选编》

- (1)指出中国近代化开始的标志性事件。依据材料一并结合所学知识,归纳当时中国工业化的特点。
 - (2)依据材料二,分析新中国成立初期工业结构的变化情况。结合所学知识,说明这一变化的必要性。
 - (3)综合上述材料,对比近代、现代工业化之路,谈谈你的认识。
25. 新型大国关系是以相互尊重、合作共赢的合作伙伴关系为核心特征的大国关系,是崛起国和既成大国之间处理冲突和矛盾的新方式。某校九年级(1)班以“大国关系”为主题进行探究,请你参与。

【平等与侵略】

材料一 (1784年)美国商船“中国皇后”号掀开了中美两国直接贸易史的第一页。在此贸易阶段,是以互惠互利、以物易物为主……美国处于贸易入超。美国为补偿这一贸易差额,先是用白银,其后用英国棉布,最后乃至走私鸦片。这也就是说,中美贸易关系开始由对等互惠的关系向不对等方面倾斜。……19世纪后半叶,中国对美有限的制成品输出日渐缩减,原料及半制成品输出则不断增加,从而使中国逐渐成为美国工业化产品的原料市场。相反,美国对华出口的初级产品显著减少,而钢铁、机械、煤油等制造品增加十分迅速。

——摘编自《中美贸易:历史反省与未来展望》

- (1)依据材料一,归纳18世纪到19世纪末中美贸易的变化,从美国的角度分析这一变化的原因。

【战争与合作】

材料二



图 A

签字仪式由中、美、英、苏等国于1942年1月1日在华盛顿举行。签字各国保证竭尽全力,相互合作……

图 B

- (2)依据材料二图 B,写出图 A 反映的历史事件。该事件对二战产生了怎样的作用?

【热战与称霸】

材料三 《旧金山和约》是1951年9月8日在美国操纵下签订的片面单独对日缔结的和约。主要内容：盟国承认日本对其领土和领海有完全的主权……日本得自愿加入集体安全协定，盟国可与日本缔结双边协定在日本驻军，盟国放弃对日本的赔偿要求。

(3) 依据材料三并结合所学知识，分析《旧金山和约》的出台对美日关系的影响。

【尊重与双赢】

材料四

中国坚定不移走和平发展道路，不奉行你输我赢的理念，不走国强必霸的老路，愿同美国一道维护世界和平、稳定、繁荣……
——习近平

中美之间要“不冲突不对抗，相互尊重、合作共赢”。
——21世纪中美关系共识

(4) 依据材料四，指出当代新型大国关系的主要特征。综合上述材料，分析中国倡导和平崛起的主要原因。

26. 某校九年级(2)班以“国际格局的演变”为主题进行探究，请你参与。

【利益集团的对峙】

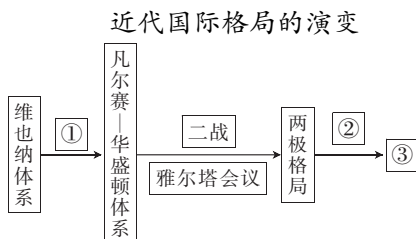
材料一 无数人是被人用担架抬进来的，有几个会爬进里面，哀求我们对他们进行刻不容缓的治疗。晚上，死者就会被集中在一处，然后将他们并肩放入在战场上为他们挖好的墓坑中。德国人、奥地利人、俄国人，他们平静地躺在一起……

——摘编自[英]马丁·吉尔伯特《第一次世界大战史》

(1) 材料一中的“德国人、奥地利人”属于哪一军事集团？依据材料一并结合所学知识，指出第一次世界大战的导火索及影响。

【国际格局的演变】

材料二



(2) 材料二中“两极格局”指的是哪“两极”？依据材料二并结合所学知识，分析①②③处应填写的内容是什么？

【国际关系的维护】

材料三



图 A



图 B

(3) 依据材料三的图 A 并结合所学知识，指出联合国成立的时间及职能。材料三中图 B 所示机构的宗旨和职能是什么？

【中国的应对策略】

(4) 当今世界，和平与发展成为时代的主题，但仍然存在着许多矛盾与冲突。面对当前的国际形势，中国应如何应对？