

两项的和即递推关系式为 $a_{n+2} = a_{n+1} + a_n, n \in \mathbb{N}^*$, 故此数列称为斐波那契数列, 又称“兔子数列”. 已知满足上述

递推关系式的数列 $\{a_n\}$ 的通项公式为 $a_n = A \cdot \left(\frac{1+\sqrt{5}}{2}\right)^n + B \cdot \left(\frac{1-\sqrt{5}}{2}\right)^n$, 其中 A, B 的值可由 a_1 和 a_2 得到, 比如

兔子数列中 $a_1 = 1, a_2 = 1$ 代入解得 $A = \frac{1}{\sqrt{5}}, B = -\frac{1}{\sqrt{5}}$. 利用以上信息计算 $\left[\left(\frac{\sqrt{5}+1}{2}\right)^5\right] = ()$. ($[x]$ 表示不超过 x

的最大整数) ()

A. 10

B. 11

C. 12

D. 13

【答案】B

【分析】 根据题不妨设 $A=B=1$, 求出 a_1, a_2 , 进而得到 a_3 , 通过 $\{a_n\}$ 的第五项即可得到 $\left(\frac{1+\sqrt{5}}{2}\right)^5, \left(\frac{1-\sqrt{5}}{2}\right)^5$ 之间

的关系. 根据 $\left(\frac{1-\sqrt{5}}{2}\right)^5$ 的范围可大致判断 $\left(\frac{\sqrt{5}+1}{2}\right)^5$ 的范围, 进而选出选项.

【详解】 解: 由题意可令 $A=B=1$,

所以将数列 $\{a_n\}$ 逐个列举可得:

$$a_1 = 1, a_2 = 1, a_3 = a_1 + a_2 = 2, a_4 = a_3 + a_2 = 3, a_5 = a_4 + a_3 = 5,$$

$$\text{故 } a_5 = \left(\frac{1+\sqrt{5}}{2}\right)^5 + \left(\frac{1-\sqrt{5}}{2}\right)^5 = 11,$$

$$\text{因为 } \left(\frac{1-\sqrt{5}}{2}\right)^5 \in (-1, 0),$$

$$\text{所以 } \left(\frac{1+\sqrt{5}}{2}\right)^5 \in (11, 12),$$

$$\text{故 } \left[\left(\frac{1+\sqrt{5}}{2}\right)^5\right] = 11.$$

故选: B

5. 已知抛物线 $y^2 = 8x$ 的焦点为 F , 点 M 在抛物线上 (异于顶点), $\overline{OM} = 2\overline{ON}$ (点 O 为坐标原点), 过点 N

作直线 OM 的垂线与 x 轴交于点 P , 则 $2|OP| - |MF| = ()$

A. 6

B. $2\sqrt{5}$

C. 4

D. $2\sqrt{3}$

【答案】A

【分析】 设 $M\left(\frac{y_0^2}{8}, y_0\right)$, 由 $\overline{OM} = 2\overline{ON}$, 得 N 为 OM 的中点. 表示 NP 的方程, 求出点 P 的坐标, 结合抛物

线的定义求得结果.

【详解】法一：依题意，设 $M\left(\frac{y_0^2}{8}, y_0\right)$ ，由 $\overline{OM} = 2\overline{ON}$ ，得 N 为 OM 的中点且 $N\left(\frac{y_0^2}{16}, \frac{y_0}{2}\right)$ ，

则 $k_{OM} = \frac{8}{y_0}$ ，易得直线 OM 的垂线 NP 的方程为 $y - \frac{y_0}{2} = -\frac{y_0}{8}\left(x - \frac{y_0^2}{16}\right)$.

令 $y=0$ ，得 $x = \frac{y_0^2}{16} + 4$ ，故 $P\left(\frac{y_0^2}{16} + 4, 0\right)$ ，由抛物线的定义易知 $|MF| = \frac{y_0^2}{8} + 2$ ，

故 $2|OP| - |MF| = 2\left(\frac{y_0^2}{16} + 4\right) - \left(\frac{y_0^2}{8} + 2\right) = 6$ ，

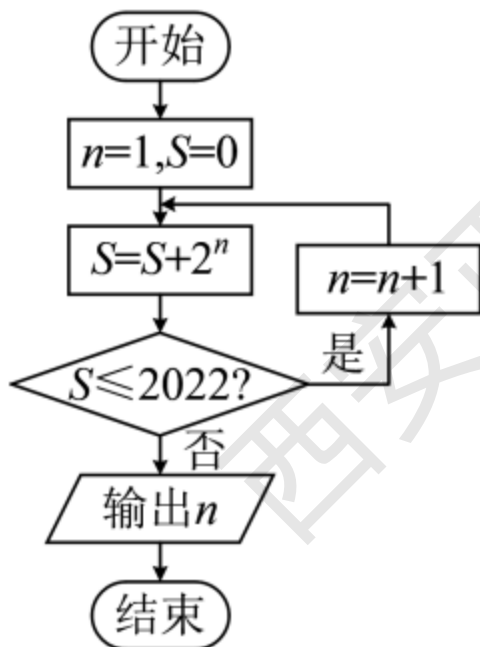
故选:A.

法二：特殊值法不妨设 $M(8,8)$ ，则 $N(4,4)$ ，则 $k_{OM} = 1$ ，易得直线 OM 的垂线 NP 的方程为 $y - 4 = -(x - 4)$.

令 $y=0$ ，得 $x=8$ ，故 $P(8,0)$ ，又 $|MF|=10$ ，故 $2|OP| - |MF| = 16 - 10 = 6$.

故选:A.

6. 执行下面的程序框图，则输出的 $n = (\quad)$



A. 9

B. 10

C. 11

D. 12

【答案】B

【分析】按照迭代方式代入根据格式判断规律为等比数列的求和，按照等比数列求和公式 $S_n = \frac{a_1(1-q^n)}{1-q}$ 求出数据逐渐做判断即可得解.

【详解】经过判断框时，

第一个 S 变为 $2^1 \notin 2022$ ， n 变为 2，

第二个 S 变为 $2^1 + 2^2 = 2^3 - 2 \notin 2022$ ， n 变为 3，

第三个 S 变为 $2^1+2^2+2^3=2^4-2=14 \notin 2022$, n 变为 4,

第四个 S 变为 $2^1+2^2+2^3+2^4=2^5-2=30 \notin 2022$, n 变为 5,

L

第九个 S 变为 $2^1+2^2+2^3+2^4+\dots+2^9=2^{10}-2=1022 \notin 2022$, n 变为 10,

第十个 S 变为 $2^1+2^2+2^3+2^4+\dots+2^9+2^{10}=2^{11}-2=2046 > 2022$, 判断框按照“否”输出 $n=10$.

故选: B.

7. 在正方体 $ABCD-A_1B_1C_1D_1$ 中, M, N, P 分别为 A_1B, A_1C_1, A_1D 的中点, 则下列结论中错误的是 ()

A. $MN \parallel AD_1$

B. 平面 $MNP \parallel$ 平面 BC_1D

C. $MN \perp CD$

D. 平面 $MNP \perp$ 平面 A_1BD

【答案】D

【分析】求得 MN 与 AD_1 位置关系判断选项 A; 求得平面 MNP 与平面 BC_1D 位置关系判断选项 B; 求得 MN 与 CD 位置关系判断选项 C; 求得平面 MNP 与平面 A_1BD 位置关系判断选项 D.

【详解】对 A, 在 $\triangle A_1BC_1$ 中, 因为 M, N 分别为 A_1B, A_1C_1 的中点, 所以 $MN \parallel BC_1$. 又 $BC_1 \parallel AD_1$, 所以 $MN \parallel AD_1$, A 正确.

对 B, 在 $\triangle A_1BD$ 中, 因为 M, P 分别为 A_1B, A_1D 的中点, 所以 $MP \parallel BD$. 因为 $MP \not\subset$ 平面 BC_1D , $BD \subset$ 平面 BC_1D , 所以 $MP \parallel$ 平面 BC_1D .

因为 $MN \parallel BC_1$, $MN \not\subset$ 平面 BC_1D , $BC_1 \subset$ 平面 BC_1D , 所以 $MN \parallel$ 平面 BC_1D . 又因为 $MP \cap MN = M$, $MP, MN \subset$ 平面 MNP , 所以平面 $MNP \parallel$ 平面 BC_1D , B 正确.

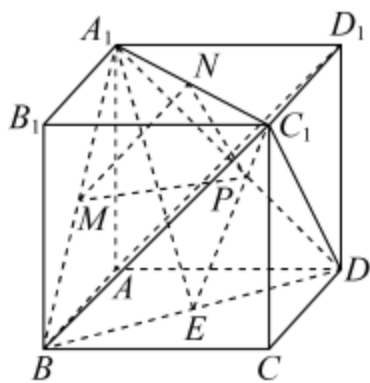
对 C, 因为 $MN \parallel AD_1$, $AD_1 \perp CD$, 所以 $MN \perp CD$, C 正确.

对 D, 取 BD 的中点 E , 连接 A_1E, EC_1 , 则 $\angle A_1EC_1$ 是二面角 A_1-BD-C_1 的平面角.

设正方体棱长为 a , 则 $\cos \angle A_1EC_1 = \frac{\left(\frac{\sqrt{6}}{2}a\right)^2 + \left(\frac{\sqrt{6}}{2}a\right)^2 - (\sqrt{2}a)^2}{2\left(\frac{\sqrt{6}}{2}a\right)^2} = \frac{1}{3} \neq 0$,

又 $0^\circ < \angle A_1EC_1 < 180^\circ$, 则 $\angle A_1EC_1 \neq 90^\circ$, 所以平面 A_1BD 与平面 BC_1D 不垂直.

又平面 $MNP \parallel$ 平面 BC_1D ，所以平面 MNP 与平面 A_1BD 不垂直，D 错误。



故选：D。

8. 设等比数列 $\{a_n\}$ 中， a_3, a_7 使函数 $f(x) = x^3 + 3a_3x^2 + a_7x + a_3^2$ 在 $x = -1$ 时取得极值 0，则 a_5 的值是 ()

- A. $\pm\sqrt{3}$ 或 $\pm 3\sqrt{2}$ B. $\sqrt{3}$ 或 $3\sqrt{2}$ C. $\pm 3\sqrt{2}$ D. $3\sqrt{2}$

【答案】D

【分析】由极值点和极值可构造方程组求得 a_3, a_7 ，代回验证可知 $\begin{cases} a_3 = 2 \\ a_7 = 9 \end{cases}$ 满足题意；结合等比数列性质可求得结果。

【详解】由题意知： $f'(x) = 3x^2 + 6a_3x + a_7$ ，

$$\because f(x) \text{ 在 } x = -1 \text{ 处取得极值 } 0, \therefore \begin{cases} f(-1) = -1 + 3a_3 - a_7 + a_3^2 = 0 \\ f'(-1) = 3 - 6a_3 + a_7 = 0 \end{cases},$$

$$\text{解得：} \begin{cases} a_3 = 1 \\ a_7 = 3 \end{cases} \text{ 或 } \begin{cases} a_3 = 2 \\ a_7 = 9 \end{cases};$$

当 $a_3 = 1, a_7 = 3$ 时， $f'(x) = 3x^2 + 6x + 3 = 3(x+1)^2 \geq 0$ ，

$\therefore f(x)$ 在 \mathbf{R} 上单调递增，不合题意；

当 $a_3 = 2, a_7 = 9$ 时， $f'(x) = 3x^2 + 12x + 9 = 3(x+1)(x+3)$ ，

\therefore 当 $x \in (-\infty, -3) \cup (-1, +\infty)$ 时， $f'(x) > 0$ ；当 $x \in (-3, -1)$ 时， $f'(x) < 0$ ；

$\therefore f(x)$ 在 $(-\infty, -3), (-1, +\infty)$ 上单调递增，在 $(-3, -1)$ 上单调递减，

$\therefore x = -1$ 是 $f(x)$ 的极小值点，满足题意；

$\therefore a_5^2 = a_3 a_7 = 18$ ，又 a_5 与 a_3, a_7 同号， $\therefore a_5 = 3\sqrt{2}$ 。

故选：D.

9. 设 A, B, C, D 是同一个半径为 4 的球的球面上四点, $AB=AC=2\sqrt{3}$, $BC=6$, 则三棱锥 $D-ABC$ 体积的最大值为 ()

- A. $3\sqrt{3}$ B. $6\sqrt{3}$ C. $12\sqrt{3}$ D. $18\sqrt{3}$

【答案】B

【分析】 M 是 $\triangle ABC$ 外心, O 是球心, 求出 OM , 当 D 是 MO 的延长线与球面交点时, 三棱锥 $D-ABC$ 体积的最大, 由此求得最大体积即可.

【详解】 如图, M 是 $\triangle ABC$ 外心, 即 $\triangle ABC$ 所在截面圆圆心, 设圆半径为 r . O 是球心,

因为 $AB=AC=2\sqrt{3}$, $BC=6$,

由余弦定理可得: $\cos \angle BAC = \frac{(2\sqrt{3})^2 + (2\sqrt{3})^2 - 6^2}{2 \times 2\sqrt{3} \times 2\sqrt{3}} = -\frac{1}{2}$,

所以 $\sin \angle BAC = \frac{\sqrt{3}}{2}$, 所以 $2r = \frac{6}{\frac{\sqrt{3}}{2}} = 4\sqrt{3}$, 则 $r = 2\sqrt{3}$

$MB = 2\sqrt{3}$, $OB = 4$,

$OM \perp$ 平面 ABC , $BM \subset$ 平面 ABC , 则 $OM \perp BM$,

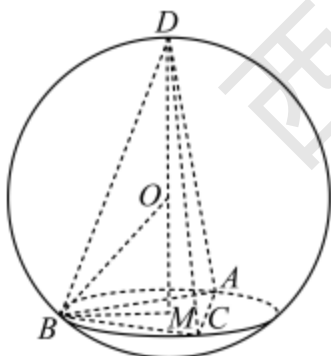
所以 $OM = \sqrt{OB^2 - BM^2} = 2$,

当 D 是 MO 的延长线与球面交点时, 三棱锥 $D-ABC$ 体积的最大,

此时棱锥的高为 $DM = 2 + 4 = 6$, $S_{\triangle ABC} = \frac{1}{2} \times (2\sqrt{3})^2 \times \sin 120^\circ = 3\sqrt{3}$,

所以棱锥体积为 $V = \frac{1}{3} S_{\triangle ABC} \cdot DM = \frac{1}{3} \times 3\sqrt{3} \times 6 = 6\sqrt{3}$.

故选：B.



10. 2020 年疫情期间, 某县中心医院分三批共派出 6 位年龄互不相同的医务人员支援武汉六个不同的方舱医院, 每个方舱医院分配一人. 第一批派出一名医务人员的年龄为 P_1 , 第二批派出两名医务人员的年龄最大者为 P_2 , 第三批派出三名医务人员的年龄最大者为 P_3 , 则满足 $P_1 < P_2 < P_3$ 的分配方案的概率为 ()

- A. $\frac{1}{3}$ B. $\frac{2}{3}$ C. $\frac{1}{20}$ D. $\frac{3}{4}$

【答案】A

【分析】假设 6 位医务人员年龄排序为 $a_1 < a_2 < a_3 < a_4 < a_5 < a_6$ ，由 a_6 必在第三批，将派遣方式按第一批所派遣的人员不同分成四类，求出满足 $P_1 < P_2 < P_3$ 的派遣方法数，再计算总派遣方法数，即可求概率。

【详解】假设 6 位医务人员年龄排序为 $a_1 < a_2 < a_3 < a_4 < a_5 < a_6$ ，由题意知，年龄最大的医务人员必在第三批，派遣方式如下：

1、第一批派 a_4 ，第二批年龄最大者为 a_5 ，第三批年龄最大者为 a_6 ：剩下的医务人员一个在第二批，两个在第三批有 $C_3^1 = 3$ 种方法，

2、第一批派 a_3 ，第二批年龄最大者为 a_4 或 a_5 ，第三批年龄最大者为 a_6 ：当第二批最大者为 a_5 ，则有 C_3^1 种方法，当第二批最大者为 a_4 ，则有 C_2^1 种方法，共 $C_3^1 + C_2^1 = 5$ 种方法；

3、第一批派 a_2 ，第二批年龄最大者为 a_3 或 a_4 或 a_5 ，第三批年龄最大者为 a_6 ：当第二批最大者为 a_5 ，则有 C_3^1 种方法，当第二批最大者为 a_4 ，则有 C_2^1 种方法，当第二批最大者为 a_3 ，则有 1 种方法，共 $C_3^1 + C_2^1 + 1 = 6$ 种方法；

4、第一批派 a_1 ，第二批年龄最大者为 a_3 或 a_4 或 a_5 ，第三批年龄最大者为 a_6 ：当第二批最大者为 a_5 ，则有 C_3^1 种方法，当第二批最大者为 a_4 ，则有 C_2^1 种方法，当第二批最大者为 a_3 ，则有 1 种方法，共 $C_3^1 + C_2^1 + 1 = 6$ 种方法；

$\therefore 3 + 5 + 6 + 6 = 20$ 种方法，而总派遣方法有 $C_6^1 C_5^2 C_3^3 = 60$ 种，

\therefore 满足 $P_1 < P_2 < P_3$ 的分配方案的概率为 $\frac{20}{60} = \frac{1}{3}$ 。

故选：A。

【点睛】关键点点睛：应用分类分步计数原理，结合题设含义，按第一批派遣的人员不同将派遣方式分类，再根据第二批的最大年龄者的不同确定各类的派遣方法数。

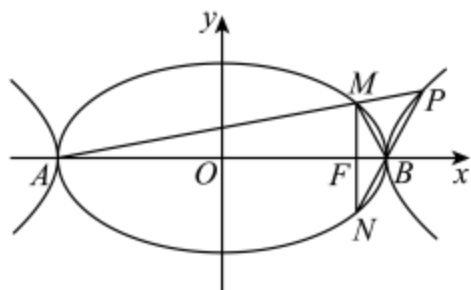
11. 已知 A、B 是椭圆 $\frac{x^2}{a^2} + \frac{y^2}{b^2} = 1 (a > b > 0)$ 与双曲线 $\frac{x^2}{a^2} - \frac{y^2}{b^2} = 1 (a > 0, b > 0)$ 的公共顶点，P 是双曲线上一点，PA、PB 交椭圆于 M、N。若 MN 过椭圆的焦点 F，且 $\tan \angle AMB = -3$ ，则双曲线的离心率为 ()

- A. 2 B. $\sqrt{3}$ C. $\sqrt{2}$ D. $\frac{2\sqrt{3}}{3}$

【答案】D

【分析】设出点 P、M 的坐标，借助双曲线、椭圆的方程及斜率坐标公式可得 $MN \perp x$ 轴，再利用和角的正切公式求出 a、b 的关系作答。

【详解】如图，设 $P(x_0, y_0)$ ，点 P、M、A 共线，点 P、B、N 共线，所在直线的斜率分别为 k_{PA}, k_{PB} ，



点 P 在双曲线上, 即 $\frac{x_0^2}{a^2} - \frac{y_0^2}{b^2} = 1$, 有 $\frac{y_0}{x_0 - a} \cdot \frac{y_0}{x_0 + a} = \frac{b^2}{a^2}$, 因此 $k_{PA} \cdot k_{PB} = \frac{b^2}{a^2}$,

点 $M(x_1, y_1)$ 在椭圆上, 即 $\frac{x_1^2}{a^2} + \frac{y_1^2}{b^2} = 1$, 有 $\frac{y_1}{x_1 - a} \cdot \frac{y_1}{x_1 + a} = -\frac{b^2}{a^2}$, 直线 MA, MB 的斜率 k_{MA}, k_{MB} , 有 $k_{MA} \cdot k_{MB} = -\frac{b^2}{a^2}$,

即 $k_{PA} \cdot k_{MB} = -\frac{b^2}{a^2}$, 于是 $k_{MB} = -k_{PB} = -k_{BN}$, 即直线 MB 与 NB 关于 x 轴对称,

又椭圆也关于 x 轴对称, 且 M, N 过焦点 F , 则 $MN \perp x$ 轴, 令 $F(c, 0)$, 由 $\begin{cases} x = c \\ \frac{x^2}{a^2} + \frac{y^2}{b^2} = 1 \end{cases}$ 得 $|y| = \frac{b^2}{a}$,

显然 $\tan \angle AMF = \frac{a+c}{\frac{b^2}{a}} = \frac{a^2+ac}{b^2}$, $\tan \angle BMF = \frac{a-c}{\frac{b^2}{a}} = \frac{a^2-ac}{b^2}$,

$$\tan \angle AMB = \frac{\tan \angle AMF + \tan \angle BMF}{1 - \tan \angle AMF \cdot \tan \angle BMF} = \frac{\frac{a^2+ac}{b^2} + \frac{a^2-ac}{b^2}}{1 - \frac{a^2+ac}{b^2} \cdot \frac{a^2-ac}{b^2}} = \frac{2a^2}{b^2 - a^2} = -3,$$

解得 $\frac{b^2}{a^2} = \frac{1}{3}$, 所以双曲线的离心率 $e = \frac{\sqrt{a^2+b^2}}{a} = \sqrt{1 + \frac{b^2}{a^2}} = \sqrt{1 + \frac{1}{3}} = \frac{2\sqrt{3}}{3}$.

故选: D

【点睛】方法点睛: 求解椭圆或双曲线的离心率的三种方法:

定义法: 通过已知条件列出方程组, 求得 a, c 得值, 根据离心率的定义求解离心率 e ;

齐次式法: 由已知条件得出关于 a, c 的二元齐次方程, 然后转化为关于 e 的一元二次方程求解;

特殊值法: 通过取特殊值或特殊位置, 求出离心率.

12. 设定义在 \mathbb{R} 上的函数 $f(x)$ 与 $g(x)$ 的导函数分别为 $f'(x)$ 和 $g'(x)$. 若 $f(x) - g(4-x) = 2$,

$g'(x) = f'(x-2)$, 且 $f(x+2)$ 为奇函数, 则下列说法中一定正确的是 ()

A. $\sum_{k=1}^{2023} f(k) = 0$

B. $\sum_{k=1}^{2023} g(k) = 0$

C. $\forall x \in \mathbb{R}, f(2+x) + f(-x) = 0$

D. $g(3) + g(5) = 4$

【答案】A

【分析】由 $g'(x) = f'(x-2)$ 得 $g(x) = f(x-2) + a$, 结合已知得 $f(x) = f(2-x) + a + 2$, 进而有 $a = -2$, 由

$f(x) = f(2-x)$ 可判断 C 项中的对称性；由 $f(x+2)$ 为奇函数可得 $y = f(x)$ 的周期、对称性及特殊值，从而化简判断 A 正误；B、D 由 $g(x) = f(x-2) - 2$ ，结合 A 即可判断。

【详解】C: 由 $g'(x) = f'(x-2)$ ，则 $g(x) = f(x-2) + a$ ，则 $g(4-x) = f(2-x) + a$ ，
又 $f(x) - g(4-x) = 2$ ，所以 $f(x) = f(2-x) + a + 2$ ，令 $x=1$ 得 $a+2=0$ ，即 $a=-2$ 。

所以 $f(x) = f(2-x)$ ，所以函数 $f(x)$ 的图象关于 $x=1$ 对称，

而 $\forall x \in \mathbf{R}$ ， $f(2+x) + f(-x) = 0$ ，则 $f(x)$ 的图象关于 $(1,0)$ 对称，错；

A: $f(x+2)$ 为奇函数，则 $y = f(x)$ 关于 $(2,0)$ 对称，且 $f(2+x) + f(2-x) = 0$ ，

$\therefore f(2) = 0$ ， $f(0) = 0$ ， $f(1) + f(3) = 0$ ， $f(4) + f(0) = 0$ ， $\therefore f(4) = 0$ 。

又 $f(x+2) = -f(-x+2) = -f(x)$ ， $\therefore f(x) = -f(x+2) = f(x+4)$ ，

$\therefore y = f(x)$ 的周期 $T = 4$ ，

$\therefore \sum_{k=1}^{2023} f(k) = 505[f(1) + f(2) + f(3) + f(4)] + f(1) + f(2) + f(3) = 0$ ，对；

D: 因为 $g(4-x) = f(2-x) + a = f(2-x) - 2$ ，所以 $g(x) = f(x-2) - 2$ ，

所以 $g(3) + g(5) = f(1) - 2 + f(3) - 2 = -4$ ，错；

B: $\sum_{k=1}^{2023} g(k) = f(-1) - 2 + f(0) - 2 + f(1) - 2 + \dots + f(2021) - 2 = \sum_{k=1}^{2023} f(k) - 2 \times 2023 = -4046$ ，错。

故选：A

【点睛】关键点睛：利用导数得 $g(x) = f(x-2) + a$ ，结合已知得到 $f(x) = f(2-x)$ ，进而求其周期和对称性，

应用周期和对称性求 $\sum_{k=1}^{2023} f(k)$ 、 $\sum_{k=1}^{2023} g(k)$ 、 $g(3) + g(5)$ 的值。

第 II 卷

二、填空题：本题共 4 小题，每小题 5 分，共 20 分。

13. 某校为促进拔尖人才培养开设了数学、物理、化学、生物、信息学五个学科竞赛课程，现有甲、乙、丙、丁四位同学要报名竞赛课程，由于精力和时间限制，每人只能选择其中一个学科的竞赛课程，则恰有两位同学选择数学竞赛课程的报名方法数为_____。

【答案】 96

【分析】 利用分步加法和分类乘法原理，先安排 4 名同学的 2 名选择数学竞赛，在安排剩下的 2 名同学到其他竞赛课程中即可。

【详解】 由题知先安排甲、乙、丙、丁四位同学的 2 名选择数学竞赛课程，

则有： $C_4^2 = 6$ 种情况，

剩下2名同学在选择物理、化学、生物、信息学四个学科竞赛课程时有：

①2名同学选择1个学科竞赛则有： $C_4^1 = 4$ 种情况，

②2名同学各选择1个学科竞赛则有 $C_4^1 C_3^1 = 12$ 种情况，

所以恰有两位同学选择数学竞赛课程的报名方法数为：

$6 \times (12 + 4) = 96$ 种情况，

故答案为：96.

14. 直线 $2x - y - 4 = 0$ 分别与 x 轴、 y 轴交于 A, B 两点，点 P 在圆 $x^2 + (y - 2)^2 = 5$ 上，则 $\triangle PAB$ 面积的取值范围是_____.

【答案】 [1,11]

【分析】 首先由直线方程求得 A, B 坐标，得到 $|AB|$ ；利用点到直线距离公式求得圆心到直线 AB 的距离 d_1 ，从而得到点 P 到直线距离 d_2 的范围，利用三角形面积公式可求得结果.

【详解】 因为直线 $2x - y - 4 = 0$ 分别与 x 轴、 y 轴交于 A, B 两点，

所以 $A(2, 0)$ ， $B(0, -4)$

所以 $|AB| = \sqrt{(2-0)^2 + (0+4)^2} = 2\sqrt{5}$

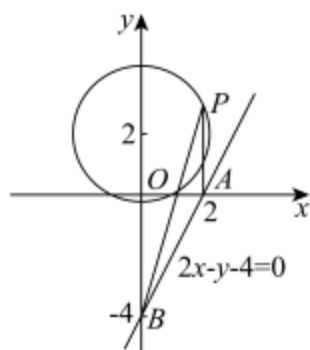
圆 $x^2 + (y - 2)^2 = 5$ 的圆心的坐标为 $(0, 2)$ ，半径 $r = \sqrt{5}$ ，

所以圆心到直线 $2x - y - 4 = 0$ 距离 $d_1 = \frac{|0 - 2 - 4|}{\sqrt{5}} = \frac{6}{\sqrt{5}} = \frac{6\sqrt{5}}{5}$ ，

所以 P 到直线 $2x - y - 4 = 0$ 距离 $d_2 \in [d_1 - r, d_1 + r]$ ，即 $d_2 \in \left[\frac{\sqrt{5}}{5}, \frac{11\sqrt{5}}{5} \right]$ ，

$\therefore S_{\triangle PAB} = \frac{1}{2} |AB| \cdot d_2 \in [1, 11]$.

故答案为：[1,11].



15. 已知函数 $f(x) = m \sin\left(\frac{1}{2}x - \frac{\pi}{4}\right) - \sin x + 2$ 在 $\left[\frac{\pi}{2}, 2\pi\right]$ 上有两个不同的零点, 则满足条件的所有 m 的值组成的集合是_____.

【答案】 $\{-2\sqrt{2}, -3\}$

【分析】 将原函数转化为同角三角函数 $f(x) = m \sin\left(\frac{1}{2}x - \frac{\pi}{4}\right) + 2 \sin^2\left(\frac{1}{2}x - \frac{\pi}{4}\right) + 1$, 再利用对勾函数的性质数形结合, 分类讨论处理即可.

【详解】解: $f(x) = m \sin\left(\frac{1}{2}x - \frac{\pi}{4}\right) - \cos\left(x - \frac{\pi}{2}\right) + 2 = m \sin\left(\frac{1}{2}x - \frac{\pi}{4}\right) + 2 \sin^2\left(\frac{1}{2}x - \frac{\pi}{4}\right) + 1$,

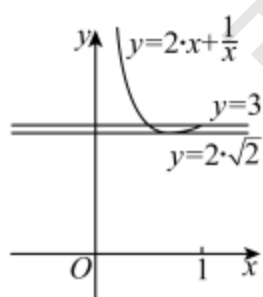
令 $t = \sin\left(\frac{1}{2}x - \frac{\pi}{4}\right) \in [0, 1] \left(x \in \left[\frac{\pi}{2}, 2\pi\right]\right)$,

则 $m \sin\left(\frac{1}{2}x - \frac{\pi}{4}\right) + 2 \sin^2\left(\frac{1}{2}x - \frac{\pi}{4}\right) + 1 = 2t^2 + mt + 1$,

则 $f(x) = 0 \Leftrightarrow 2t^2 + mt + 1 = 0 (*)$

当 $t = 0$ 时, 显然 $f(x) = 0$ 无解; 当 $1 \geq t > 0$ 时 $(*)$ 可化为 $-m = 2t + \frac{1}{t}$.

利用对勾函数的性质与图象可知 (如下图所示): $-m \in [2\sqrt{2}, +\infty)$



①当 $-m = 2\sqrt{2}$ 时, 即 $\sin\left(\frac{1}{2}x - \frac{\pi}{4}\right) = t = \frac{\sqrt{2}}{2}$, 此时 $x = \pi$ 或 $x = 2\pi$, 符合题意;

②当 $-m = 3$ 时, 即 $t = 1$ 或 $t = \frac{1}{2}$, 此时 $x = \frac{3\pi}{2}$ 或 $x = \frac{5\pi}{6}$, 符合题意;

③当 $-m > 3$ 时, 即 $t < \frac{1}{2}$, 由 $t = \sin\left(\frac{1}{2}x - \frac{\pi}{4}\right) < \frac{1}{2}, \left(x \in \left[\frac{\pi}{2}, 2\pi\right]\right)$ 可得 $\frac{1}{2}x - \frac{\pi}{4} \in \left[0, \frac{\pi}{6}\right)$,

易知当 $t = t_0 < \frac{1}{2}$ 时, 只有一个解 x_0 满足, 不符合题意;

④当 $-m \in (2\sqrt{2}, 3)$ 时, $t \in \left(\frac{1}{2}, 1\right)$ 即 $\sin\left(\frac{1}{2}x - \frac{\pi}{4}\right) \in \left(\frac{1}{2}, 1\right)$,

方程 $-m = 2t + \frac{1}{t}$ 有两根, 不妨记为 t_1, t_2 , 其中 $t_1 = \sin\left(\frac{1}{2}x - \frac{\pi}{4}\right) \in \left(\frac{1}{2}, \frac{\sqrt{2}}{2}\right)$, 只有一个根,

$t_2 = \sin\left(\frac{1}{2}x - \frac{\pi}{4}\right) \in \left(\frac{\sqrt{2}}{2}, 1\right)$ 有两个根, 故方程有 3 个解, 也不符合题意.

∴ 满足条件的所有 m 的值组成的集合是: $\{-2\sqrt{2}, -3\}$.

故答案为: $\{-2\sqrt{2}, -3\}$

16. 在同一平面直角坐标系中, P, Q 分别是函数 $f(x) = axe^x - \ln(ax)$ 和 $g(x) = \frac{2\ln(x-1)}{x}$ 图象上的动点, 若对任意 $a > 0$, 有 $|PQ| \geq m$ 恒成立, 则实数 m 的最大值为_____.

【答案】 $\frac{3\sqrt{2}}{2}$

【分析】 利用同构思想构造 $w(x) = e^x - x$, 得到其单调性, 得到 $axe^x - \ln(ax) - x \geq 1$, 再构造

$j(x) = x - \frac{2\ln(x-1)}{x}, x > 1$, 求导得到其单调性及其最小值, 设 $P(n, ane^n - \ln(an)), Q\left(t, \frac{2\ln(t-1)}{t}\right)$, 利用

基本不等式得到 $|PQ| \geq \frac{3\sqrt{2}}{2}$, 求出答案.

【详解】 $axe^x - \ln(ax) - x = e^{x+\ln ax} - (x + \ln ax)$, 令 $w(x) = e^x - x, x \in \mathbf{R}$,

则 $w'(x) = e^x - 1$

当 $x \in (0, +\infty)$ 时, $w'(x) > 0$, $w(x) = e^x - x$ 单调递增, 当 $x \in (-\infty, 0)$ 时, $w'(x) < 0$, $w(x) = e^x - x$ 单调递减,

故 $w(x) = e^x - x$ 在 $x=0$ 处取得极小值, 也是最小值, 故 $w(x) \geq e^0 - 0 = 1$,

故 $axe^x - \ln(ax) - x = e^{x+\ln ax} - (x + \ln ax) \geq 1$, 当且仅当 $x + \ln ax = 0$ 时, 等号成立,

令 $j(x) = x - \frac{2\ln(x-1)}{x}, x > 1$,

则 $j'(x) = 1 - \frac{2x}{x-1} - \frac{2\ln(x-1)}{x^2} = \frac{x^2 - \frac{2x}{x-1} + 2\ln(x-1)}{x^2}$,

$$\text{令 } k(x) = x^2 - \frac{2x}{x-1} + 2\ln(x-1),$$

$$\text{则 } k'(x) = 2x - \frac{2x-2-2x}{(x-1)^2} + \frac{2}{x-1} = 2x + \frac{2}{(x-1)^2} + \frac{2}{x-1} > 0 \text{ 在 } (1, +\infty) \text{ 上恒成立,}$$

$$\text{故 } k(x) = x^2 - \frac{2x}{x-1} + 2\ln(x-1) \text{ 在 } (1, +\infty) \text{ 上单调递增,}$$

$$\text{又 } k(2) = 0, \text{ 故当 } x \in (1, 2) \text{ 时, } k(x) < 0, \text{ 当 } x \in (2, +\infty) \text{ 时, } k(x) > 0,$$

$$\text{故 } x \in (1, 2) \text{ 时, } j'(x) < 0, j(x) \text{ 单调递减, 当 } x \in (2, +\infty) \text{ 时, } j'(x) > 0, j(x) \text{ 单调递增,}$$

$$\text{故 } j(x) = x - \frac{2\ln(x-1)}{x} \text{ 在 } x=2 \text{ 处取得极小值, 也是最小值, 最小值为 } j(2) = 2,$$

$$\text{设 } P(n, a ne^n - \ln(an)), Q\left(t, \frac{2\ln(t-1)}{t}\right),$$

$$\text{由基本不等式得, } |PQ|^2 = (t-n)^2 + \left((a ne^n - \ln(an)) - \frac{2\ln(t-1)}{t} \right)^2$$

$$\geq \frac{\left(t - \frac{2\ln(t-1)}{t} + a ne^n - \ln an - n \right)^2}{2} \geq \frac{(2+1)^2}{2} = \frac{9}{2},$$

$$\text{当且仅当 } t-n = (a ne^n - \ln(an)) - \frac{2\ln(t-1)}{t}, t=2, n+\ln an=0 \text{ 时, 等号成立,}$$

$$\text{故 } |PQ| \geq \frac{3\sqrt{2}}{2}, \text{ 则 } m_{\max} = \frac{3\sqrt{2}}{2}.$$

$$\text{故答案为: } \frac{3\sqrt{2}}{2}$$

【点睛】导函数求解取值范围时, 当函数中同时出现 e^x 与 $\ln x$, 通常使用同构来进行求解, 本题 $axe^x - \ln(ax) - x$ 变形得到 $e^{x+\ln ax} - (x+\ln ax)$, 从而构造 $w(x) = e^x - x$ 进行求解.

三、解答题: 共 70 分. 解答应写出文字说明、证明过程或演算步骤. 第 17~21 题为必考题, 每个试题考生都必须作答. 第 22、23 题为选考题, 考生根据要求作答.

17. 在 $\triangle ABC$ 中, 内角 A, B, C 所对的边长分别为 a, b, c , 且满足 $a - 3b + 6b \sin^2 \frac{A+B}{2} = 0$.

(1) 求证: $a + 3b \cos C = 0$;

(2) 求 $\tan A$ 的最大值.

【答案】(1) 证明见解析

(2) $\frac{3}{4}$

【分析】(1) 利用三角形内角性质以及三角函数诱导公式, 根据余弦定理, 整理等式, 结合半角公式, 可得答案;

(2) 利用正弦定理, 三角函数内角性质以及同角三角函数的基本关系, 整理出关于角 B 的函数解析式, 利

用基本不等式，可得答案.

【详解】(1) $\because a - 3b + 6b \sin^2 \frac{A+B}{2} = 0,$

$$\therefore a - 3b + 6b \sin^2 \frac{\pi - C}{2} = a - 3b + 6b \cos^2 \frac{C}{2} = 0,$$

$$\therefore a - 3b + 6b \cdot \frac{1 + \cos C}{2} = 0,$$

$$\therefore a + 3b \cos C = 0.$$

(2) 由(1)可得: $\sin A + 3 \sin B \cos C = 0$, 且 C 为钝角,

即 $4 \sin B \cos C + \cos B \sin C = 0$,

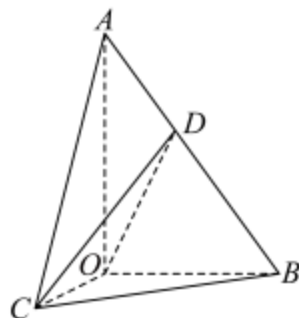
即 $4 \tan B + \tan C = 0$, $\tan C = -4 \tan B$,

$$\tan A = -\tan(B+C) = -\frac{\tan B + \tan C}{1 - \tan B \tan C} = \frac{3 \tan B}{4 \tan^2 B + 1} = \frac{3}{4 \tan B + \frac{1}{\tan B}} \leq \frac{3}{2\sqrt{4 \tan B \times \frac{1}{\tan B}}} = \frac{3}{4},$$

当且仅当 $4 \tan B = \frac{1}{\tan B}$, 即 $\tan B = \frac{1}{2}$ 时取等号.

故 $\tan A$ 的最大值为 $\frac{3}{4}$.

18. 如图, 在 $\text{Rt}\triangle AOB$ 中, $\angle AOB = \frac{\pi}{2}$, $AO = 4$, $BO = 2$, $\text{Rt}\triangle AOC$ 可以通过 $\text{Rt}\triangle AOB$ 以直线 AO 为轴旋转得到, 且二面角 $B-AO-C$ 是直二面角. 动点 D 在线段 AB 上.



(1) 当 D 为 AB 的中点时, 求异面直线 AO 与 CD 所成角的余弦值大小;

(2) 求 CD 与平面 AOB 所成角最大时正弦值.

【答案】(1) $\frac{2}{3}$ (2) $\frac{\sqrt{5}}{3}$

【分析】(1) 建系, 利用空间向量求异面直线夹角;

(2) 设 $\vec{BD} = \lambda \vec{BA}$ 可得 $D(0, 2(1-\lambda), 4\lambda)$, 利用空间向量求线面夹角结合二次函数分析运算.

【详解】(1) 由题意可得: $AO \perp OB, AO \perp OC$, 平面 $AOB \perp$ 平面 AOC ,

平面 $AOB \cap$ 平面 $AOC = AO$, $OB \subset$ 平面 AOB ,

所以 $OB \perp$ 平面 AOC ,

如图, 以 O 为坐标原点建立空间直角坐标系, 则 $O(0, 0, 0), A(0, 0, 4), C(2, 0, 0), B(0, 2, 0)$,

若 D 为 AB 的中点, 则 $D(0, 1, 2)$,

可得 $\vec{OA} = (0, 0, 4), \vec{CD} = (-2, 1, 2)$,

设异面直线 AO 与 CD 所成角 $\theta \in (0, \frac{\pi}{2}]$,

$$\text{则 } \cos \theta = \left| \cos \langle \vec{OA}, \vec{CD} \rangle \right| = \frac{|\vec{OA} \cdot \vec{CD}|}{|\vec{OA}| \cdot |\vec{CD}|} = \frac{8}{4 \times 3} = \frac{2}{3}.$$

(2) 若动点 D 在线段 AB 上, 设 $D(x, y, z), \vec{BD} = \lambda \vec{BA}, \lambda \in [0, 1]$,

$$\text{则 } \vec{BD} = (x, y-2, z), \vec{BA} = (0, -2, 4), \text{ 可得 } \begin{cases} x=0 \\ y-2=-2\lambda \\ z=4\lambda \end{cases}, \text{ 解得 } \begin{cases} x=0 \\ y=2(1-\lambda) \\ z=4\lambda \end{cases},$$

即 $D(0, 2(1-\lambda), 4\lambda)$, 则 $\vec{CD} = (-2, 2(1-\lambda), 4\lambda)$,

由题意可知: 平面 AOB 的法向量为 $\vec{n} = (1, 0, 0)$,

设 CD 与平面 AOB 所成角为 $\alpha \in (0, \frac{\pi}{2}]$,

$$\text{则 } \sin \alpha = \left| \cos \langle \vec{n}, \vec{CD} \rangle \right| = \frac{|\vec{n} \cdot \vec{CD}|}{|\vec{n}| \cdot |\vec{CD}|} = \frac{2}{\sqrt{4+4(1-\lambda)^2+16\lambda^2}} = \frac{1}{\sqrt{5\lambda^2-2\lambda+2}},$$

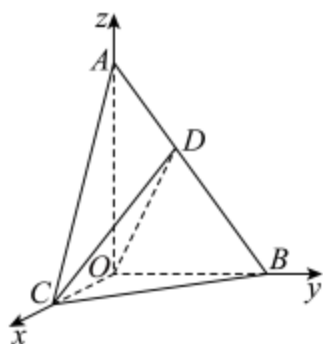
对于 $y = 5\lambda^2 - 2\lambda + 2$ 开口向上, 对称轴为 $\lambda = \frac{1}{5} \in [0, 1]$,

可得当 $\lambda = \frac{1}{5}$ 时, $y = 5\lambda^2 - 2\lambda + 2$ 取到最小值 $y_{\min} = 5 \times (\frac{1}{5})^2 - 2 \times \frac{1}{5} + 2 = \frac{9}{5}$,

所以 $\sin \alpha$ 的最大值为 $\frac{1}{\frac{9}{5}} = \frac{\sqrt{5}}{3}$,

注意到 $\alpha \in (0, \frac{\pi}{2}]$,

故 CD 与平面 AOB 所成角的最大时正弦值 $\frac{\sqrt{5}}{3}$.



19. 学校团委和工会联合组织教职员工进行益智健身活动比赛. 经多轮比赛后, 由教师甲、乙作为代表进行决赛. 决赛共设三个项目, 每个项目胜者得 10 分, 负者得 -5 分, 没有平局. 三个项目比赛结束后, 总得分高的获得冠军. 已知教师甲在三个项目中获胜的概率分别为 0.4, 0.5, 0.75, 各项的比赛结果相互独立. 甲、乙获得冠军的概率分别记为 p_1, p_2 .

(1) 判断甲、乙获得冠军的实力是否有明显差别 (如果 $|p_1 - p_2| \geq \sqrt{\frac{2|p_1^2 - p_2^2|}{5}} + 0.1$, 那么认为甲、乙获得冠军

的实力有明显差别, 否则认为没有明显差别);

(2) 用 X 表示教师乙的总得分, 求 X 的分布列与期望.

【答案】 (1) 甲、乙获得冠军的实力没有明显差别

(2) 分布列见解析, 5.25

【分析】 (1) 设教师甲在三个项目中获胜的事件依次为 A, B, C , 利用互斥事件和独立事件的概率共求得

$p_1 = 0.575$ 和 $p_2 = 0.425$, 结合 $|p_1 - p_2| < \sqrt{\frac{2|p_1^2 - p_2^2|}{5}} + 0.1$, 即可得到结论;

(2) 根据题意, 得到 X 的可能取值为 $-15, 0, 15, 30$, 利用独立事件的概率乘法公式, 求得相应的概率, 得出分布列, 结合期望的公式, 即可求解.

【详解】 (1) 解: 设教师甲在三个项目中获胜的事件依次为 A, B, C ,

则教师甲获得冠军的概率 $p_1 = P(ABC) + P(\bar{A}BC) + P(A\bar{B}C) + P(AB\bar{C})$

$= 0.4 \times 0.5 \times 0.75 + 0.6 \times 0.5 \times 0.75 + 0.4 \times 0.5 \times 0.75 + 0.4 \times 0.5 \times 0.25 = 0.15 + 0.225 + 0.15 + 0.05 = 0.575$,

由对立事件的概率公式, 可得 $p_2 = 1 - p_1 = 0.425$,

所以 $\sqrt{\frac{2|p_1^2 - p_2^2|}{5}} + 0.1 = \sqrt{0.16} = 0.4$, 解得 $|p_1 - p_2| = 0.15$,

因为 $|p_1 - p_2| < \sqrt{\frac{2|p_1^2 - p_2^2|}{5}} + 0.1$, 所以甲、乙获得冠军的实力没有明显差别.

(2) 解: 根据题意知, X 的可能取值为 $-15, 0, 15, 30$,

可得 $P(X = -15) = 0.4 \times 0.5 \times 0.75 = 0.15$,

$P(X = 0) = 0.6 \times 0.5 \times 0.75 + 0.4 \times 0.5 \times 0.75 + 0.4 \times 0.5 \times 0.25 = 0.425$,

$P(X = 15) = 0.4 \times 0.5 \times 0.25 + 0.6 \times 0.5 \times 0.25 + 0.6 \times 0.5 \times 0.75 = 0.35$,

$P(X = 30) = 0.6 \times 0.5 \times 0.25 = 0.075$.

所以随机变量 X 的分布列为

X	-15	0	15	30
P	0.15	0.425	0.35	0.075

所以期望为 $E(X) = -15 \times 0.15 + 0 \times 0.425 + 15 \times 0.35 + 30 \times 0.075 = 5.25$.

20. 已知椭圆 $C: \frac{x^2}{a^2} + \frac{y^2}{b^2} = 1 (a > b > 0)$ 的左顶点为 A , P 为 C 上一点, O 为原点, $|PA| = |PO|$, $\angle APO = 90^\circ$, $\triangle APO$ 的面积为 1.

(1) 求椭圆 C 的方程;

(2) 设 B 为 C 的右顶点, 过点 $(1, 0)$ 且斜率不为 0 的直线 l 与 C 交于 M, N 两点, 证明: $3 \tan \angle MAB = \tan \angle NBA$.

【答案】 (1) $\frac{x^2}{4} + \frac{3y^2}{4} = 1$

(2) 见解析

【分析】 (1) 通过分析得 $P\left(-\frac{a}{2}, \frac{a}{2}\right)$, 将其坐标代入椭圆方程, 结合 $\triangle APO$ 面积和 a, b, c 的关系即可求出椭圆方程;

(2) 设直线 AM 的斜率为 k_1 , 直线 BN 的斜率为 k_2 , $M(x_1, y_1), N(x_2, y_2)$, 直线 MN 的方程为 $x = my + 1$, 再将其与椭圆联立得到韦达定理式, 通过化简得 $2my_1y_2 = 3(y_1 + y_2)$, 最后计算 $\frac{k_1}{k_2}$, 将上式代入即可证明其为定值.

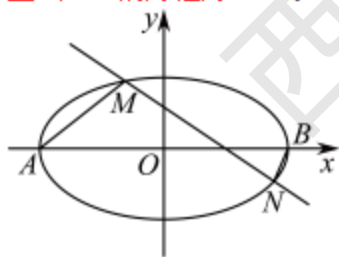
【详解】 (1) 不妨设点 P 在 x 轴的上方, 由椭圆的性质可知 $|OA| = a$.
 $\therefore \triangle APO$ 是以 P 为直角顶点的等腰直角三角形.

$\therefore P\left(-\frac{a}{2}, \frac{a}{2}\right)$ 代入 $\frac{x^2}{a^2} + \frac{y^2}{b^2} = 1$, 得 $\frac{\left(-\frac{a}{2}\right)^2}{a^2} + \frac{\left(\frac{a}{2}\right)^2}{b^2} = 1$, 整理得 $a^2 = 3b^2$.

$\therefore \triangle APO$ 的面积为 1, $\therefore \frac{1}{2} \cdot a \cdot \frac{a}{2} = 1, \therefore a^2 = 4, \therefore b^2 = \frac{4}{3}$.

故椭圆 C 的方程为 $\frac{x^2}{4} + \frac{3y^2}{4} = 1$.

(2) 设直线 AM 的斜率为 k_1 , 直线 BN 的斜率为 k_2 , $M(x_1, y_1), N(x_2, y_2)$,
 直线 MN 的方程为 $x = my + 1$.



不妨设 $y_2 < 0 < y_1$, 则 $k_1 = \tan \angle MAB, k_2 = \tan \angle NBA$.

联立 $\begin{cases} x = my + 1, \\ x^2 + 3y^2 = 4 \end{cases}$ 可得 $(m^2 + 3)y^2 + 2my - 3 = 0$,

$\Delta = 16m^2 + 36 > 0$, 则 $y_1 + y_2 = -\frac{2m}{m^2 + 3}, y_1y_2 = -\frac{3}{m^2 + 3}$,

$$\therefore \frac{y_1 + y_2}{y_1 y_2} = \frac{2m}{3}, \text{ 即 } 2my_1 y_2 = 3(y_1 + y_2),$$

$$\therefore \frac{k_1}{k_2} = \frac{\frac{y_1}{x_1 + 2}}{\frac{y_2}{x_2 - 2}} = \frac{y_1}{x_1 + 2} \cdot \frac{x_2 - 2}{y_2} = \frac{y_1(my_2 - 1)}{(my_1 + 3)y_2} = \frac{my_1 y_2 - y_1}{my_1 y_2 + 3y_2}$$

$$= \frac{\frac{3}{2}(y_1 + y_2) - y_1}{\frac{3}{2}(y_1 + y_2) + 3y_2} = \frac{\frac{1}{2}y_1 + \frac{3}{2}y_2}{\frac{3}{2}y_1 + \frac{9}{2}y_2} = \frac{1}{3},$$

$$\therefore 3k_1 = k_2,$$

故 $3 \tan \angle MAB = \tan \angle NBA$ 得证.

【点睛】 关键点睛：本题第二问的关键第一是要找到正切值与直线斜率的关系，再通过设直线 MN 的方程为 $x = my + 1$ ，将与椭圆联立，利用化积为和的方法得到 $2my_1 y_2 = 3(y_1 + y_2)$ ，最后再计算斜率比值为定值，化积为和是处理非对称韦达形式的常用方法.

21. 已知函数 $f(x) = \frac{\ln x}{x} - x + a, a \in \mathbb{R}$.

(1) 若 $a = 0$ ，求不等式 $xf(x) + x^2 \geq \frac{2(x-1)}{x+1}$ 的解集；

(2) 若 $f(x)$ 存在两个不同的零点 $x_1, x_2 (x_1 < x_2)$ ，证明： $\ln x_1 + \ln x_2 + x_1 + x_2 + x_1 x_2 > 2 + a$.

【答案】 (1) $[1, +\infty)$;

(2) 详见解析.

【分析】 (1) $g(x) = \ln x - \frac{2(x-1)}{x+1}$ 由 $g(x)$ 的单调性及 $g(1) = 0$ 可求解；

(2) 根据函数 $f(x)$ 存在两个不同的零点 x_1, x_2 ，得 $0 < x_1 < 1 < x_2$ ， $x_1 \ln x_2 - x_2 \ln x_1 = x_1 x_2 (x_2 - x_1)$ ，将所证不等式转化为 $(x_1 + 1) \ln x_1 - (x_2 + 1) \ln x_2 + x_1 \ln x_2 - x_2 \ln x_1 + (x_1 - x_2)x_1 x_2 - 2(x_1 - x_2) < 0$ ，利用由(1)的过程知

$(x_1 + 1) \ln x_1 < 2(x_1 - 1)$ 及 $-(x_2 + 1) \ln x_2 < 2(1 - x_2)$ ，代入可证得结论.

【详解】 (1) 令 $g(x) = xf(x) + x^2 - \frac{2(x-1)}{x+1} = \ln x - \frac{2(x-1)}{x+1}$ ， $g(x)$ 的定义域为 $(0, +\infty)$ ，

则 $g'(x) = \frac{1}{x} - \frac{4}{(x+1)^2} = \frac{(x-1)^2}{x(x+1)^2} \geq 0$ ，所以 $g(x)$ 在 $(0, +\infty)$ 上单调递增.

因为 $g(1) = 0$ ，所以当 $x \geq 1$ 时， $g(x) \geq 0$ ，当 $0 < x < 1$ 时， $g(x) < 0$ ，所以原不等式的解集为 $[1, +\infty)$.

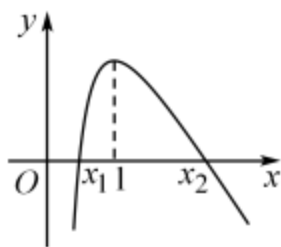
(2) 证明： $f(x) = \frac{1 - \ln x - x^2}{x^2}$ ，令 $h(x) = 1 - \ln x - x^2$ ，易知 $h(x)$ 在 $(0, +\infty)$ 上单调递减，且 $h(1) = 0$.

当 $0 < x < 1$ 时， $h(x) > 0$ ，此时 $f(x) > 0$ ， $f(x)$ 单调递增；

当 $x \geq 1$ 时, $h(x) \leq 0$, 此时 $f(x) \leq 0$, $f(x)$ 单调递减.

所以 $f(x)_{\max} = f(1) = a - 1$.

因为函数 $f(x)$ 存在两个不同的零点 x_1, x_2 , 所以 $a - 1 > 0$, 即 $a > 1$, 由图可知 $0 < x_1 < 1 < x_2$,



由题意知 $f(x_1) = \frac{\ln x_1}{x_1} - x_1 + a = 0, f(x_2) = \frac{\ln x_2}{x_2} - x_2 + a = 0$,

所以 $\ln x_1 = x_1^2 - ax_1, \ln x_2 = x_2^2 - ax_2$,

两式相减得 $a = x_1 + x_2 + \frac{\ln x_2 - \ln x_1}{x_1 - x_2}$.

所以 $\ln x_1 + \ln x_2 + x_1 + x_2 + x_1 x_2 > 2 + a$ 等价于

$(x_1 - x_2)(\ln x_1 + \ln x_2) + (x_1 - x_2)x_1 x_2 - 2(x_1 - x_2) + \ln x_1 - \ln x_2 < 0$,

也等价于 $(x_1 + 1)\ln x_1 - (x_2 + 1)\ln x_2 + x_1 \ln x_2 - x_2 \ln x_1 + (x_1 - x_2)x_1 x_2 - 2(x_1 - x_2) < 0$.

因为 $0 < x_1 < 1 < x_2$, 所以由(1)的解题过程知 $(x_1 + 1)\ln x_1 < 2(x_1 - 1)$①

$-(x_2 + 1)\ln x_2 < 2(1 - x_2)$②

因为 $\frac{\ln x_1}{x_1} - x_1 + a = \frac{\ln x_2}{x_2} - x_2 + a$, 所以 $\frac{x_2 \ln x_1 - x_1 \ln x_2}{x_1 x_2} = x_1 - x_2$,

即 $x_1 \ln x_2 - x_2 \ln x_1 = x_1 x_2 (x_2 - x_1)$③

①+②+③得 $(x_1 + 1)\ln x_1 - (x_2 + 1)\ln x_2 + x_1 \ln x_2 - x_2 \ln x_1 + (x_1 - x_2)x_1 x_2 - 2(x_1 - x_2) < 0$,

所以 $\ln x_1 + \ln x_2 + x_1 + x_2 + x_1 x_2 > 2 + a$.

【点睛】 关键点点睛: 本题难点在零点的转化应用: 由 $f(x)$ 的零点为 x_1, x_2 得:

(1) $\ln x_1 = x_1^2 - ax_1, \ln x_2 = x_2^2 - ax_2$, 两式相减得 $a = x_1 + x_2 + \frac{\ln x_2 - \ln x_1}{x_1 - x_2}$, 使用此时代入消去 a .

(2) 由 $\frac{\ln x_1}{x_1} - x_1 + a = \frac{\ln x_2}{x_2} - x_2 + a$ 得 $\frac{x_2 \ln x_1 - x_1 \ln x_2}{x_1 x_2} = x_1 - x_2$ 即 $x_1 \ln x_2 - x_2 \ln x_1 = x_1 x_2 (x_2 - x_1)$, 使用此时代

入消去 $x_1 x_2 (x_2 - x_1)$.

本题中两次对零点的使用都富有创新性.

(二) 选考题: 共 10 分. 请考生在第 22、23 题中任选一题作答. 如果多做, 则按所做的第一题计分.

22. [选修 4-4: 坐标系与参数方程] (10 分)

在直角坐标系 xOy 中，曲线 C_1 的参数方程为 $\begin{cases} x = 4\cos\alpha \\ y = 2\sin\alpha \end{cases}$ (α 为参数)，以坐标原点 O 为极点， x 轴的正半轴

为极轴建立极坐标系，曲线 C_2 的极坐标方程为 $\rho\cos\theta + 2\rho\sin\theta - 4 = 0$.

(1) 设曲线 C_1 与曲线 C_2 交于 A, B 两点，求 $|AB|$ ；

(2) 若 M, N 是曲线 C_1 上的两个动点，且 $OM \perp ON$ ，求 $|OM| \cdot |ON|$ 的取值范围.

【答案】 (1) $2\sqrt{5}$

(2) $\left[\frac{32}{5}, 8\right]$

【分析】 (1) 首先将曲线 C_1 的参数方程化为普通方程，曲线 C_2 的极坐标方程化为直角坐标方程，再联立两曲线方程，求出交点坐标，再由距离公式计算可得；

(2) 首先求出曲线 C_1 的坐标方程，设 $M(\rho_1, \theta_1)$ ， $N\left(\rho_2, \theta_1 + \frac{\pi}{2}\right)$ ，即可表示出 $|OM| \cdot |ON|$ ，再利用二倍角公式公式化简，最后结合正弦函数的性质计算可得.

【详解】 (1) 因为曲线 C_1 的参数方程为 $\begin{cases} x = 4\cos\alpha \\ y = 2\sin\alpha \end{cases}$ (α 为参数)，

所以 $\begin{cases} \frac{x}{4} = \cos\alpha \\ \frac{y}{2} = \sin\alpha \end{cases}$ ，又 $\sin^2\alpha + \cos^2\alpha = 1$ ，所以曲线 C_1 的普通方程为 $\frac{x^2}{16} + \frac{y^2}{4} = 1$ ，

又曲线 C_2 的极坐标方程为 $\rho\cos\theta + 2\rho\sin\theta - 4 = 0$ ，由 $\begin{cases} x = \rho\cos\theta \\ y = \rho\sin\theta \end{cases}$ ，

所以曲线 C_2 的直角坐标方程为 $x + 2y - 4 = 0$ ，

由 $\begin{cases} x + 2y - 4 = 0 \\ \frac{x^2}{16} + \frac{y^2}{4} = 1 \end{cases}$ ，解得 $\begin{cases} x = 4 \\ y = 0 \end{cases}$ 或 $\begin{cases} x = 0 \\ y = 2 \end{cases}$ ，所以 $|AB| = \sqrt{(4-0)^2 + (0-2)^2} = 2\sqrt{5}$.

(2) 又 $\begin{cases} x = \rho\cos\theta \\ y = \rho\sin\theta \end{cases}$ ，所以 $\frac{(\rho\cos\theta)^2}{16} + \frac{(\rho\sin\theta)^2}{4} = 1$ ，

所以 $\rho = \frac{4}{\sqrt{1+3\sin^2\theta}}$ ，即曲线 C_1 的极坐标方程为 $\rho = \frac{4}{\sqrt{1+3\sin^2\theta}}$ ，

因为 $OM \perp ON$ ，所以设 $M(\rho_1, \theta_1)$ ， $N\left(\rho_2, \theta_1 + \frac{\pi}{2}\right)$ ，

$$\begin{aligned}
 \text{所以 } |OM| \cdot |ON| &= \frac{4}{\sqrt{1+3\sin^2\theta_1}} \cdot \frac{4}{\sqrt{1+3\sin^2\left(\theta_1+\frac{\pi}{2}\right)}} \\
 &= \frac{16}{\sqrt{(1+3\sin^2\theta_1)(1+3\cos^2\theta_1)}} \\
 &= \frac{16}{\sqrt{4+9\sin^2\theta_1\cos^2\theta_1}} \\
 &= \frac{16}{\sqrt{4+\frac{9}{4}\sin^2 2\theta_1}},
 \end{aligned}$$

所以当 $\sin^2 2\theta_1 = 1$ 时 $|OM| \cdot |ON|$ 取得最小值 $\frac{32}{5}$,

当 $\sin^2 2\theta_1 = 0$ 时 $|OM| \cdot |ON|$ 取得最大值 8,

所以 $|OM| \cdot |ON|$ 的取值范围为 $\left[\frac{32}{5}, 8\right]$.

23. [选修 4-5: 不等式选讲] (10 分)

已知 $a > 0$, $b > 0$, $\frac{1}{a} + \frac{1}{b} = 2$.

(1) 证明: $\frac{1}{a+1} + \frac{1}{b+1} \leq 1$.

(2) 证明: $3ab + \frac{8}{a+b} \leq 5 + a^2 + b^2$.

【答案】(1) 证明见解析

(2) 证明见解析

【分析】(1) 根据已知条件及基本不等式即可求解;

(2) 利用分析法及作差比较法即可求解.

【详解】(1) 由基本不等式可得 $2 = \frac{1}{a} + \frac{1}{b} \geq \frac{2}{\sqrt{ab}}$, 可得 $ab \geq 1$,

当且仅当 $a = b = 1$ 时, 等号成立.

又由 $\frac{1}{a} + \frac{1}{b} = 2$, 得 $a + b = 2ab$,

所以 $\frac{1}{a+1} + \frac{1}{b+1} = \frac{a+b+2}{ab+a+b+1} = \frac{2ab+2}{3ab+1} = \frac{2}{3} + \frac{4}{9ab+3} \leq 1$, 当且仅当 $a = b = 1$ 时, 等号成立.

故原不等式得证.

(2) 要证 $3ab + \frac{8}{a+b} \leq 5 + a^2 + b^2$, 即证 $5ab + \frac{4}{ab} \leq 5 + (a+b)^2$,

即证 $5ab + \frac{4}{ab} \leq 5 + 4a^2b^2$,

令 $t = ab \geq 1$ ，即证 $5t + \frac{4}{t} \leq 5 + 4t^2$ 。

因为 $5 + 4t^2 - 5t - \frac{4}{t} = \frac{4(t^3 - 1) - 5(t - 1)}{t} = \frac{(t - 1)(4t^2 - t + 4)}{t}$ ，且 $t - 1 \geq 0$ ， $4t^2 - t + 4 = 4\left(t - \frac{1}{8}\right)^2 + \frac{63}{16} > 0$ ，

故 $5 + 4t^2 - 5t - \frac{4}{t} \geq 0$ ，即原不等式得证。

西安正大补习学校